


ARBETSUPPGIFTER PARVIS

Färglägg termometrarna så att de visar rätt temperatur.
Svara på frågorna.




måndag




-10 °C

tisdag




-15 °C

onsdag




-8 °C

torsdag

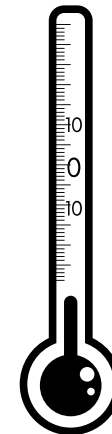
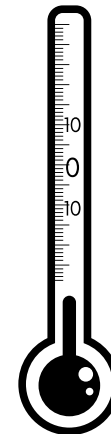
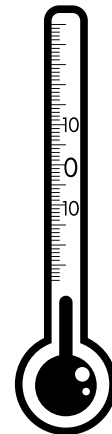
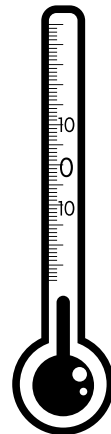
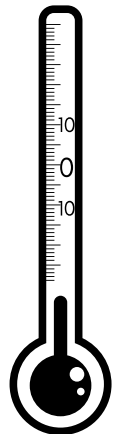


0 °C

fredag



-4 °C



Hur mycket skiljer temperaturen mellan måndagen och tisdagen?

Hur mycket varmare är det på torsdagen än på onsdagen?