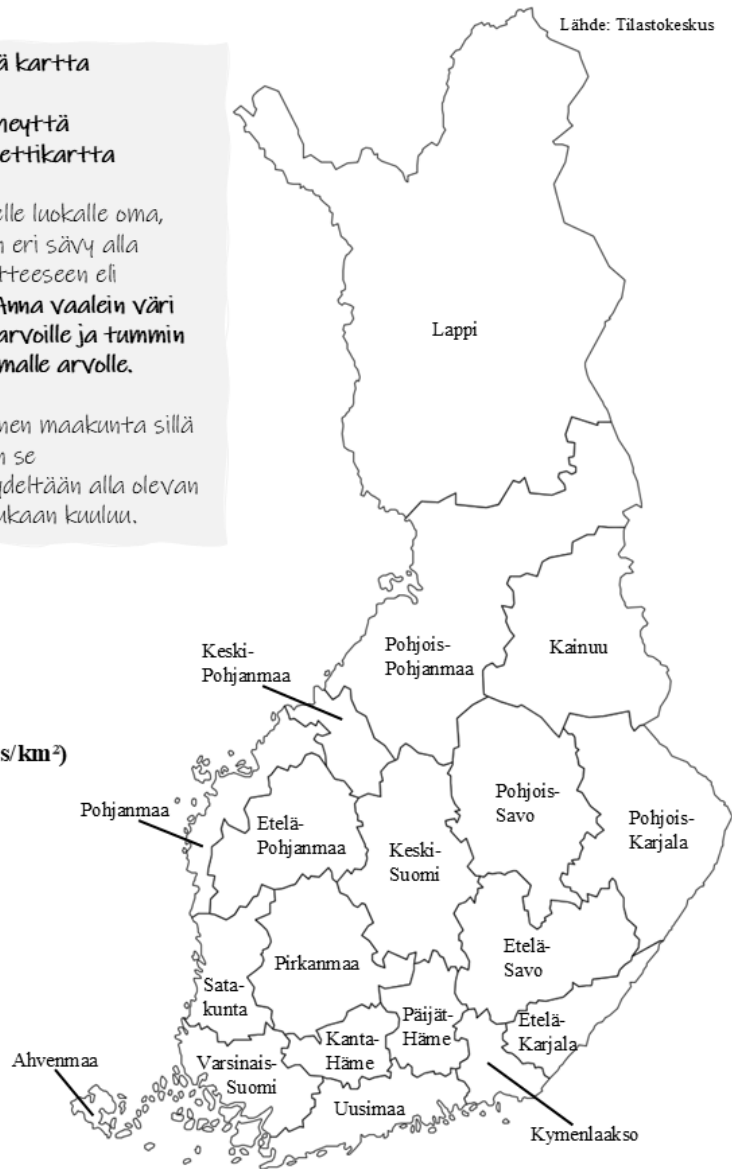
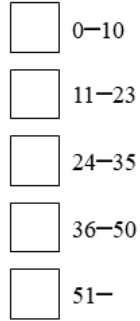


Tehtävä 1. Hyvä kartta

Väritä asukastiheyttä kuvaava koropleettikartta

- Anna jokaiselle luokalle oma, saman värin eri sävy alla olevaan selitteeseen eli legendaan. Anna vaalein väri pienimmille arvoille ja tummin väri suurimmalle arvolle.
- Väritä jokainen maakunta sillä värillä, johon se asukastiheydeltään alla olevan aineiston mukaan kuuluu.

Asukastiheys (as/km²)

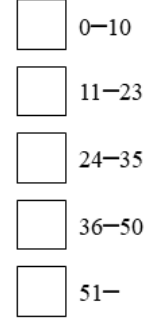


Tehtävä 2. Huono kartta

Väritä asukastiheyttä kuvaava koropleettikartta

- Anna jokaiselle luokalle oma väri alla olevaan selitteeseen eli legendaan. Anna jokaiselle luokalle toisistaan selkeästi erottuva erilainen väri.
- Väritä jokainen maakunta sillä värillä, johon se asukastiheydeltään alla olevan aineiston mukaan kuuluu.
- Vertaile tehtävän 1 ja 2 karttoja. Miksi tehtävän 2. kartta on huono?

Asukastiheys (as/km²)



Asukastiheys (as/km²) Lähde: Tilastokeskus, 2024

Ahvenanmaa	Etelä-Karjala	Etelä-Pohjanmaa	Etelä-Savo	Kainuu	Kanta-Häme	Keski-Pohjanmaa	Keski-Suomi	Kymenlaakso	Lappi
20	24	14	10	3	33	14	17	35	2
Pirkanmaa	Pohjanmaa	Pohjois-Karjala	Pohjois-Pohjanmaa	Pohjois-Savo	Päijät-Häme	Satakunta	Uusimaa	Varsinais-Suomi	
41	24	9	11	14	36	27	196	46	